

Karta pracy - matematyka

Zadanie 1

Czy wiesz, w którym roku powstała kopalnia soli w Bochni?

Rozwiąż działania, wpisz ich wyniki w kratki w kolejności od najmniejszego do największego.

$95 - 45 - 49 = \square$

$16 : 4 = \square$

$100 - 98 = \square$




$12 - 5 + 1 = \square$

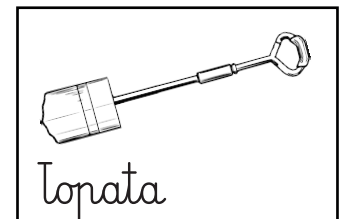

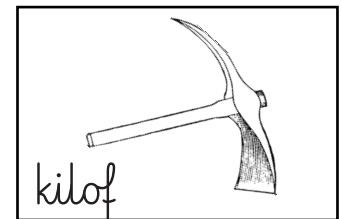
Kopalnia Soli Bochnia powstała w roku.

Zadanie 2

Górnik Jaśko pracował w kopalni 100 lat temu. Zapomniał jednego z narzędzi. Zaczynaj od pola z napisem START. Poruszaj się zgodnie z kodem zapisanym strzałkami. Zanacz drogę.

Czego zapomniał górnik? Pokoloruj ten przedmiot.

					
					
Start					



Kod: ↑ ↑ ↑ → → ↑ → → ↓ ↓ →